

**Школьный этап всероссийской олимпиады школьников по географии
2023-2024 учебный год
8 КЛАСС**

Максимальный балл – 32

Время выполнения работы 1 час (60 мин).

Разрешается использовать линейку, ручку, карандаш.

Издание – 3 балла.

2-16 задание – по 1 баллу за задание

17-22 задания – по 2 балла за задание

1. Установите соответствие:

1. Афанасий Никитин	А. Доказательство шарообразности Земли (наблюдения затмений)
2. С.П. Крашенинников	Б. Путешествие в Индию, «Хождение за три моря»
3. Аристотель	В. «Описание Земли Камчатки»
4. Птолемей	Г. Описание Памира, муссонов Индии, полезных растений Китая
5. Марко Поло	Д. Открытие берегов Америки
6. Х. Колумб	Е. «География» в 8 томах. Первая настоящая карта

Ответ: _____

2. Если именованный масштаб карты в 1 см 2 км, то численный масштаб составляет

1. 1:2 000 2. 1: 20 000 3. 1: 200 000 4. 1: 2 000 000

3. Какая из перечисленных горных пород является метаморфической по происхождению?

1. глина 2. мрамор 3. Известняк 4. пемза

4. Впадины и возвышенности различают по:

1. азимуту 3. бергштриху
2. горизонталям 4. углу

5. Определите тип климата по описанию:

«Жара нестерпимая. Океан затих. Знойно и душно. В воздухе никакого движения. В каютах нечем дышать, тело покрывается испариной, простыни и подушки влажные».

1. умеренный морской 3. тропический
2. экваториальный 4. пустынный субтропический

6. Самым восточным морем Атлантического океана является...

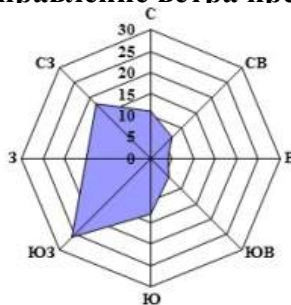
1. Саргассово 2. Средиземное 3. Балтийское 4. Черное

7. Какое кругосветное авиапутешествие будет короче?

1. по экватору 3. по параллели 40°
2. по параллели 70° 4. по начальному меридиану

8. Определите по розе ветров, какое направление ветра преобладает в данном населенном пункте?

1. восточное
2. северо-западное
3. юго-западное
4. южное



9. Заповедник «Долина гейзеров» находится...

1. на Камчатке 2. в Крыму 3. на Алтае 4. в Западной Сибири

10. О каком полезном ископаемом мы говорим, когда упоминаем о названиях таких его бассейнов залегания как Кузбасс, Донбасс, Печорский, Ленский?

1. газ 2. уголь 3. нефть 4. железная руда

11. Выход смятого в складки кристаллического фундамента на древних платформах называется...

1. горы 2. плиты 3. щиты 4. грабены

12. Выберите правильное утверждение о циркуляции воздушных масс по сезонам в субтропическом климатическом поясе:

1. зимой и летом господствуют тропические воздушные массы
2. зимой – умеренные воздушные массы, летом – тропические
3. зимой – тропические воздушные массы, летом – умеренные
4. зимой – тропические воздушные массы, летом – экваториальные

13. Какой географический объект не имеет долготы:

1. Экватор
2. Северный полюс
3. Северный полярный круг
4. Южный тропик

14. Укажите формы рельефа, образование которых связано с деятельностью ледников:

1. Фьорды
2. Овраги
3. Терриконы
4. Троги

15. Выберите из предложенного списка озеро, которое имеет самую большую площадь водного зеркала:

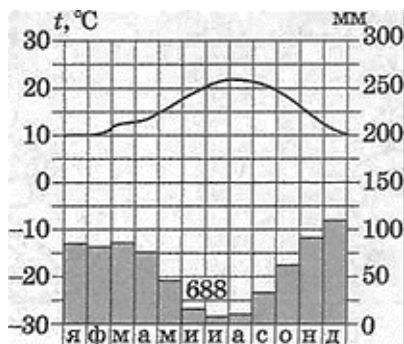
1. Байкал 2. Ладожское 3. Каспийское 4. Телецкое

16. Укажите регион с муссонной циркуляцией воздушных масс

- А) Дальний Восток
Б) Кавказ
В) Северо-Восток Сибири
Г) Горы Южной Сибири

17. Какая амплитуда колебаний температур верная?

1. 5° 2. 10° 3. 12° 4. 20°



18. Какой буквой на карте России обозначена Архангельская область?



1)А

2)В

3)С

4)D

19. На границе какого государства и региона России находится крайняя южная точка страны?

1. Грузия – Республика Карачаево-Черкесия

2. Азербайджан – Республика Дагестан

3. Монголия – Республика Тыва

4. Северная Корея – Приморский край



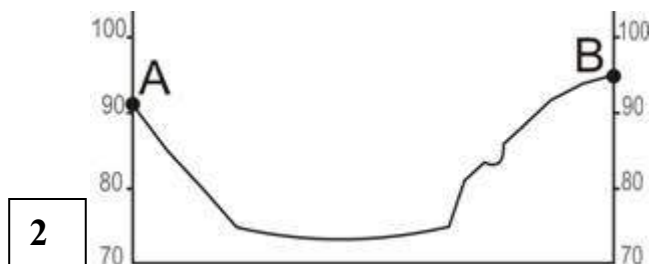

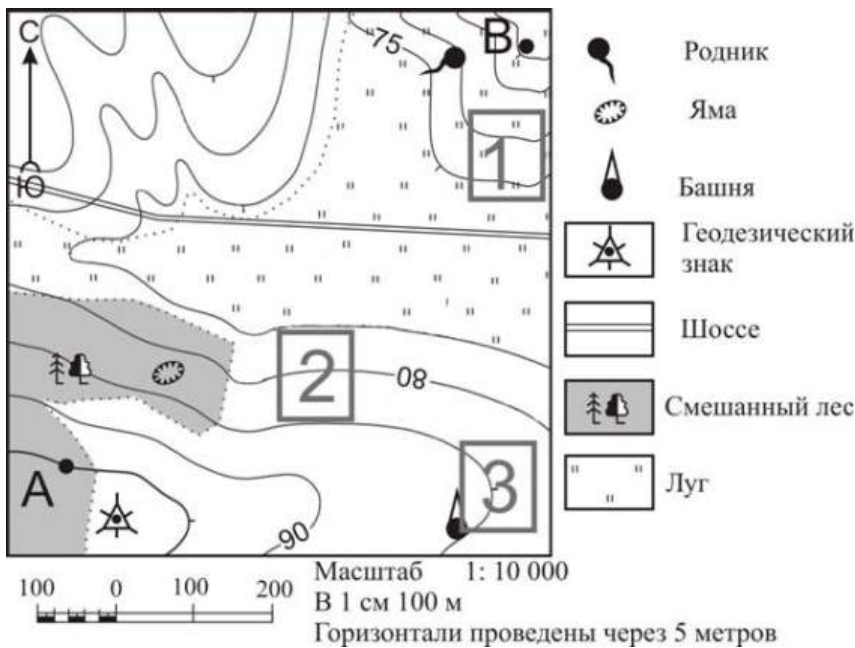
20. Восьмиклассница Катя, путешествуя с родителями летом, решила описать растительность на небольшом участке леса. Побродив немного, она составила такой список:

липа сердцевидная, вяз гладкий, пихта сибирская, лещина обыкновенная, черёмуха обыкновенная, бересклет бородавчатый, герань лесная, медуница неясная, копытень европейский, сныть обыкновенная, колокольчик раскидистый.

При описании площадки Катя ошиблась и внесла в список растение, которое не растет в этой природной зоне. Назовите это растение. В какой природной зоне находится Катя?

21. Назовите реку Амурской области, название которой в переводе с эвенкийского означает «Железо» _____

22. Ознакомьтесь с картой, показанной на рисунке. На рисунках представлены варианты профиля рельефа местности, построенные на основе карты по линии А-В разными учащимися. Какой из профилей построен верно?



23. 12 сентября у берегов Индонезии в точке с географическими координатами

3° с. ш. 98° в. д. произошло землетрясение силой 8,4 балла по шкале Рихтера, за которым последовала серия повторных подземных толчков. Трехметровая волна обрушилась на рыбацкий поселок на острове Суматра. Волна разрушила сотни жилых домов, пострадало 90 человек

- 1) Карту какого материка необходимо выбрать, для того, чтобы подробно изучить названное в тексте место стихийного бедствия?
- 2) Как называется волна, разрушившая поселок, упомянутый в тексте?
- 3) Объясните, почему в районе, о котором идет речь в тексте, часто происходят землетрясения?

КЛЮЧИ.
8 класс.

Школьный этап всероссийской олимпиады школьников по географии
2023-2024 учебный год
Максимальный балл – 32 .

№ вопроса	Ответ	Количество баллов за правильный ответ
1	1-Б 2-В 3-А 4-Е 5-Г 6-Д	3
2	3	1
3	2	1
4	3	1
5	2	1
6	4	1
7	2	1
8	3	1
9	1	1
10	2	1
11	3	1
12	2	1
13	2	1
14	4	1
15	3	1
16	1	1
17	3	2
18	1	2
19	2	2
20	Пихта сибирская. Смешанный и широколиственный лес	2
21	Селемджа	2
22	4	2
23	Евразия. Цунами. Стык литосферных плит	2

